

**KONKURS WIEDZY O SPOŁECZEŃSTWIE
WARMIŃSKO-MAZURSKIEGO KURATORA OŚWIATY
DLA UCZNIÓW GIMNAZJUM
ETAP WOJEWÓDZKI
ROK SZKOLNY 2018/2019**

..... Kod ucznia

Szanowny Uczniu,

witaj na etapie wojewódzkim Konkursu Wiedzy o Społeczeństwie. Przeczytaj uważnie instrukcję i postaraj się prawidłowo odpowiedzieć na wszystkie pytania.

1. Arkusz liczy 8 stron i zawiera 27 zadań.
2. Przed rozpoczęciem pracy sprawdź, czy Twój test jest kompletny. Jeżeli zauważysz usterki, zgłoś je Komisji Konkursowej.
3. Odpowiedzi wpisuj czarnym lub niebieskim długopisem.
4. Dbaj o czytelność pisma i precyzję odpowiedzi.
5. Nie używaj korektora.
6. Jeśli się pomylisz, przekreśl błędną odpowiedź i wpisz/zaznacz poprawną.

Powodzenia!

Czas pracy: 90 minut

Liczba punktów możliwych do uzyskania: 80

Zadanie 1. Określ, czy poniższe zdania są prawdziwe czy fałszywe. Wpisz w odpowiednie miejsce „Prawda” (zdanie prawdziwe) lub „Fałsz” (zdanie fałszywe). /0-3/

	Zdanie	Prawda/Fałsz
1.	Negocjacje mają na celu znalezienie rozwiązania, z którego będą zadowolone wszystkie strony konfliktu.	
2.	Komunikacja niewerbalna obejmuje gesty, postawę, mimikę.	
3.	O kompromisie mówimy wtedy, gdy każda ze stron idzie na pewne ustępstwa.	

Zadanie 2 . Wyjaśnij na czym polega czynne oraz bierne prawo wyborcze./0-2/

.....
.....
.....

Zadanie 3 . W zdaniu skreśl jeden fragment w nawiasie (**błądny**), tak aby zdanie było prawdziwe. /0-1/

Oddanie głosu w wyborach w Polsce (jest prawem obywatelskim / jest obowiązkiem obywatelskim, którego niewykonanie wiąże się z sankcją karną).

Zadanie 4. Uzupełnij tabelę dotyczącą cenzusu wiekowego (minimalny wymagany wiek) czynnego i biernego prawa wyborczego./0-6/

	Czynne prawo wyborcze	Bierne prawo wyborcze
Wybory na Prezydenta RP		
Wybory do Sejmu RP		
Wybory do Rady Miasta Olsztyna		

Zadanie 5. Spośród podanych postaci wybierz polskich prezydentów i wpisz we właściwe miejsca w tabeli / 0-6 /

Ignacy Mościcki, Władysław Grabski , Aleksander Kwaśniewski, Tadeusz Mazowiecki,
Gabriel Narutowicz, Lech Wałęsa, Eugeniusz Kwiatkowski, Leszek Balcerowicz, Lech Kaczyński,
Stanisław Wojciechowski

II Rzeczpospolita	Polska po 1989 r.

Zadanie 6. Uzupełnij tekst Konstytucji RP wpisując brakujące słowa w wykropkowane miejsca. / 0-5/

Art.127

1. Prezydent Rzeczypospolitej jest wybierany przez Naród w wyborach: ,
....., bezpośrednich i w głosowaniu

Art. 128.

2. Wybory Prezydenta Rzeczypospolitej zarządza [...].

Art. 145.

Prezydent Rzeczypospolitej za naruszenie Konstytucji, ustawy lub za popełnienie przestępstwa może być pociągnięty do odpowiedzialności przed

Zadanie 7. Określ, czy poniższe zdania są prawdziwe czy fałszywe .Wpisz w odpowiednie miejsce „Prawda” (zdanie prawdziwe) lub „Fałsz” (zdanie fałszywe). /0-4/

	ZDANIE	Prawda/Fałsz
1.	Funkcja socjalna państwa polega na sprawowaniu kontroli nad stanem rolnictwa, handlu i przemysłu.	
2.	Przykładem demokracji bezpośredniej było referendum unijne przeprowadzone w Polsce w 2003 roku.	
3.	W państwie autorytarnym zostają zachowane niektóre z elementów demokracji, na przykład wybory. Przykładem takiego państwa może być Polska za rządów sanacji.	
4.	Fundacja Wielka Orkiestra Świątecznej Pomocy posiada status organizacji pożytku publicznego. Dzięki temu wypełniając PIT możemy jej przekazać 1 % podatku.	

Zadanie 8. Wykonaj polecenia na podstawie fotografii ./0-2/

a) Podaj imię i nazwisko polityka przedstawionego na zdjęciu.

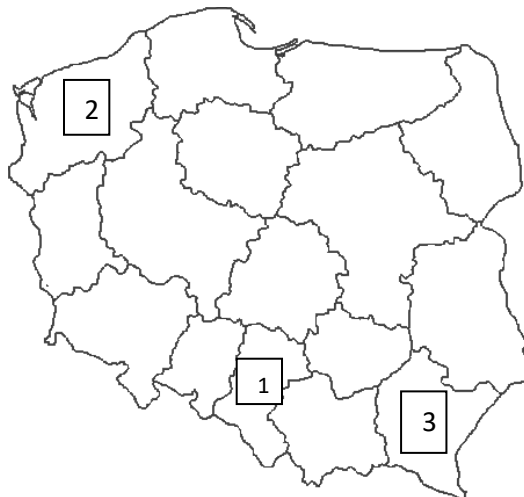
.....

b) Podaj, jaką funkcję pełni w polskim parlamencie.

.....



Zadanie 9. Na podstawie mapy uzupełnij tabelę. /0-6/



Numer na mapie	Nazwa województwa	Miasto wojewódzkie
1.		
2.		
3.		

Zadanie 10. Zamaluj kratkę przy właściwym dokończeniu zdania /0-1/

Szereg, w którym przedstawiono we właściwej kolejności najważniejsze etapy procesu legislacyjnego (tworzenia ustawy), to:

- A przyjęcie ustawy przez Senat → przyjęcie ustawy przez Sejm → podpisanie ustawy przez Prezydenta Rzeczypospolitej.
- B przyjęcie ustawy przez Sejm → przyjęcie ustawy przez Senat → podpisanie ustawy przez Prezydenta Rzeczypospolitej.
- C przyjęcie ustawy przez Sejm → podpisanie ustawy przez Prezydenta Rzeczypospolitej → przyjęcie ustawy przez Senat.

Zadanie 11. Co to jest ? Rozwiń skróty. /0-4/

- a) RPP -
- b)UOKiK –
- c)KRRiT -
- d)NBP –

Zadanie 12. Podaj nazwy dwóch **narodów** będących od wielu lat w konflikcie, do którego nawiązują poniższe ilustracje. /0-2/



Zadanie 13. Uzupełnij tabelkę poświęconą konfliktom międzynarodowym. /0 -3 /

L.p.	Strony konfliktu	Sporny obszar
1.		Krym
2.		Gibraltar
3.		Wyspy Kurylskie

Zadanie 14. Zamaluj kratkę przy właściwym dokończeniu zdania. /0-1/

Wydarzenia przedstawione na mapie przeszły do historii pod nazwą

- A Arabska Wiosna
- B Arabska Jesień Narodów
- C Wiosna Ludów
- D Jesień Narodów



Zadanie 15. Połącz instytucje unijne z ich zadaniami. Obok cyfry wpisz właściwą literę . /0-3/

1-.....

2-.....

3-.....




1.	Trybunał Sprawiedliwości
2.	Parlament Europejski
3.	Rada Europejska

A	Jest głównym organem decyzyjnym, tworzą ją ministrowie z rządów państw członkowskich.
B	Pełni funkcję doradczą i kontrolną, reprezentuje obywateli Unii.
C	Wyznacza główne kierunki rozwoju Unii, w jej skład wchodzi szefowie państw i rządów.
D	Zapewnia jednolitą wykładnię prawa UE we wszystkich krajach UE oraz jego przestrzeganie przez kraje i instytucje UE.

Zadanie 16. Dokończ zdanie. /0-1/

Siedziba instytucji oznaczonej w zadaniu numer 15 literą D znajduje się w

Zadanie 17. Połącz agendy ONZ z ich symbolami. Obok cyfry wpisz właściwą literę . /0-3/

1.		A Światowa Organizacja Zdrowia
		B Międzynarodowa Organizacja Lotnictwa Cywilnego
		C Organizacja Narodów Zjednoczonych ds. Wyżywienia i Rolnictwa
		D Organizacja Narodów Zjednoczonych ds. Oświaty, Nauki i Kultury
2.		1 -
		2 -
		3 -
3.		

Zadanie 18. 1 stycznia 2018 r. Polska stała się członkiem Rady Bezpieczeństwa ONZ, jako 1 z 10 niestałych członków. Niestale członkostwo potrwa dwa lata, do końca 2019 roku.

Odpowiedz TAK lub NIE na poniższe pytania. /0-3/

Czy Polska jest jednym z państw założycielskich ONZ ?

Czy Sekretarzem Generalnym ONZ jest obecnie Ban Ki-moon?

Czy Niemcy są stałym członkiem Rady Bezpieczeństwa ONZ ?

Zadanie 19. Na podstawie mapy uzupełnij tabelę. /0-6/



Numer na mapie	Państwo	Członkostwo w NATO	Członkostwo w Unii Europejskiej
<i>Przykład</i>	<i>Wielka Brytania</i>	<i>Tak</i>	<i>Tak</i>
1.			
2.			

Zadanie 20. Określ, czy poniższe zdania są prawdziwe czy fałszywe. Wpisz w odpowiednie miejsce „Prawda” (zdanie prawdziwe) lub „Fałsz” (zdanie fałszywe). /0-4/

	Zdanie	Prawda/Fałsz
1.	W celu otrzymania numeru REGON należy udać się do urzędu statystycznego.	
2.	Każdy przedsiębiorca na początku każdego roku kalendarzowego musi opracować nowy biznesplan i złożyć go w Urzędzie Skarbowym.	
3.	Celem działań marketingowych jest zmniejszenie kosztów produkcji w danym przedsiębiorstwie.	
4.	Spółka akcyjna jest to forma działalności odpowiednia dla dużych przedsięwzięć, firm planujących wejście na giełdę.	

Zadanie 21. Banknoty kolekcjonerskie są emitowane z myślą o kolekcjonerach i numizmatykach. Są one emitowane z okazji ważnych wydarzeń lub też upamięniają wybitne postaci, autorytety i ich rolę w historii Polski i Polaków.



Odpowiedz na pytanie TAK lub NIE. /0-1/

Czy banknotami kolekcjonerskimi można posługiwać się na takich samych zasadach, jak banknotami obiegowymi, a więc czy są one prawnym środkiem płatniczym w Polsce ?

Zadanie 22. Postaw znak „X” przy cechach wolnego rynku. /0-3/

- A Działa wielu dostawców towarów.
- B Wielkość produkcji oraz ceny ustala rząd.
- C Producent dużą wagę przykładają do reklamy towaru.
- D Na cenę wpływa gra rynkowa popytu i podaży.
- E W sklepach jest ograniczony wybór produktów.

Zadanie 23. Zamaluj kratkę przy opisie sytuacji, która jest przejawem korupcji. /0-1 /

- A Dyrektor przedsiębiorstwa zatrudnił swego znajomego, który wygrał konkurs na wolne stanowisko.
- B Kierowca samochodu, zaproponował mechanikowi w stacji diagnostycznej, że zapłaci za pozytywny przegląd samochodu, choć jest on niesprawny technicznie.

Zadanie 24. Zamaluj kratkę przy właściwym dokończeniu zdania. /0-1/

Korupcja jest to

- A wykorzystywanie stanowiska dla rozwoju firmy.
- B wykorzystywanie zajmowanego stanowiska dla uzyskania prywatnych korzyści.
- C działanie na szkodę firmy.

Zadanie 25. W każdym zdaniu skreśl jeden fragment w nawiasie (**błędny**), tak aby zdanie było prawdziwe. /0-3/

1. W okresie rozwoju gospodarczego, gdy kursy akcji wielu przedsiębiorstw rosną, na giełdzie trwa (bessa / hossa).
2. Symbolem bessy na giełdzie jest (byk / niedźwiedź).
3. Jan Kowalski (może / nie może) być posiadaczem konta osobistego w NBP .

Zadanie 26. Połącz nazwy podatków z odpowiednimi wyjaśnieniami. /0-3/

1.	PIT
2.	VAT
3.	CIT

1.	
2.	
3.	

A	Płacimy go dokonując zakupów w sklepach.
B	Pan Jan zapłacił podatek od dochodów, jakie uzyskał pracując jako urzędnik w Urzędzie Miasta.
C	Musi go zapłacić każdy szczęściarz, który trafił „szóstkę” w Lotto.
D	Podatek od dochodów spółek.

Zadanie 27. Rozstrzygnij, czy niemiecki projektant odzieży marki PUDEL naruszył zasady uczciwej konkurencji. Odpowiedź uzasadnij odwołując się do ilustracji. /0-2/

Rozstrzygnięcie-

Uzasadnienie-

.....
.....
.....

