

..... KOD
..... Liczba punktów

**KONKURS Z HISTORII**  
**WARMIŃSKO-MAZURSKIEGO**  
**KURATORA OŚWIATY**  
**DLA UCZNIÓW SZKÓŁ PODSTAWOWYCH**  
**ROK SZKOLNY 2017/2018**  
**ETAP WOJEWÓDZKI**

Drogi młody historyku.

Witamy Cię na etapie wojewódzkim konkursu historycznego.

Przed Tobą

29 zadań do wykonania.

Dokładnie czytaj polecenia, przemyśl każdą odpowiedź.

W zadaniach zamkniętych prawidłową odpowiedź zaznacz znakiem X.

Pracuj samodzielnie. Unikaj skreśleń.

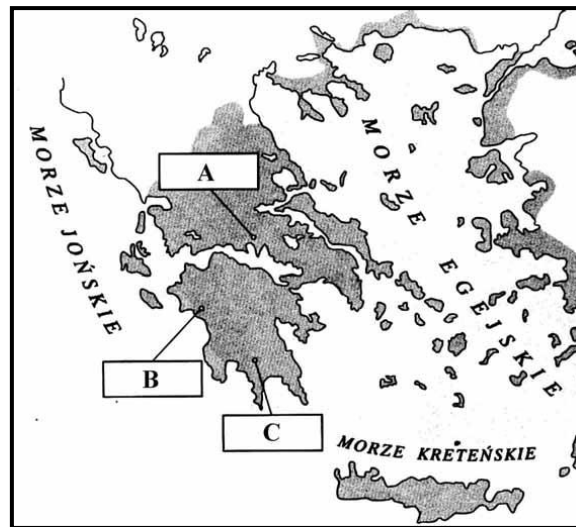
Na wypełnienie testu masz 90 min.

Życzymy Ci sukcesów

Komisja Konkursu Historycznego  
Warmińsko-Mazurskiego Kuratora Oświaty  
w Olsztynie

**Tekst i mapa do zadania 1.**

Była symbolem braterstwa wszystkich Hellenów. Igrzyska odbywały się [tu] co cztery lata i stanowiły podstawę chronologii greckiej.



**Zadanie 1. (0 –3)**

Uzupełnij luki odnoszące się do treści tekstu i mapy.

Nazwa miejscowości opisanej w tekście to **1.1.** .... , oznaczono ją na mapie literą **1.2.** ..... . Za początek wydarzeń opisanych w tekście przyjmuje się datę **1.3.** .....

**Ilustracja do zadania 2.**

Rzymski kamień milowy



**Zadanie 2. (0 –2)**

Wyjaśnij gdzie był stawiany i do czego służył kamień przedstawiony na ilustracji.

.....  
.....  
.....  
.....

**Zadanie 3. (0 –3)**

Uzupełnij tabelę, wpisując władców Polski, za panowania których miały miejsce wymienione wydarzenia.

	Wydarzenie	Władca
3.1.	Przybycie księżniczki czeskiej Dobrawy na ziemie polskie.	
3.2.	Męczeńska śmierć biskupa Wojciecha na ziemi pruskiej.	
3.3.	Zjazd monarchów europejskich i uczta u Wierzyńka.	

**Ilustracje do zadania 4.**

Ilustracja 1.



Ilustracja 2.



Ilustracja 3.



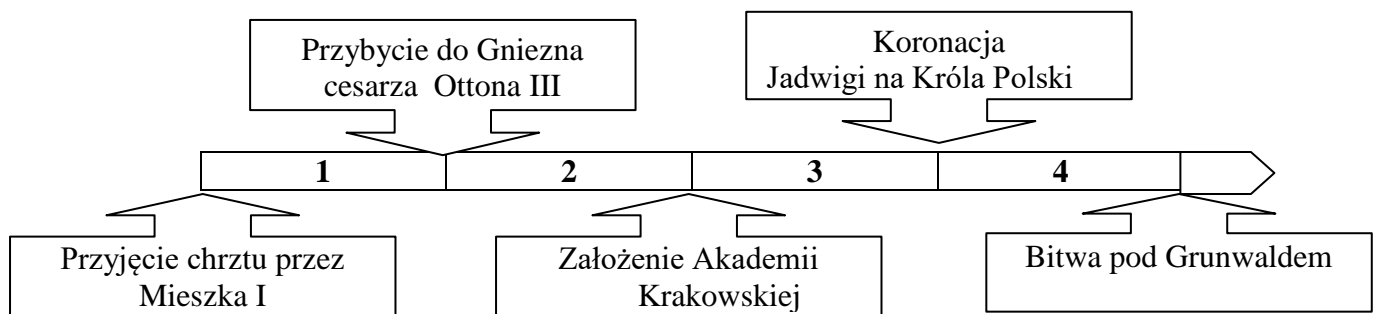
**Zadanie 4. (0 –3)**

Oceń prawdziwość poniższych zdań. Zaznacz P, jeśli zdanie jest prawdziwe, albo F- jeśli jest fałszywe.

4.1.	Organizacje cechowe tworzyły w średniowiecznym mieście wszystkie grupy społeczne widoczne na ilustracjach.	P	F
4.2.	Grupa społeczna widoczna na ilustracji nr 1. mogła wchodzić w skład samorządu miejskiego.	P	F
4.3.	Pracę rzemieślnika w średniowiecznym mieście przedstawia ilustracja nr 2.	P	F

**Tekst i taśma chronologiczna do zadań 5.6.**

Jeżeli pani Węgier córkę swą Jadwigę, królową polską odda mu w małżeństwo Wielki Książę przyrzeka i zobowiązuje się wszelkie ziemie zagrabione i straty królestwa polskiego odzyskać własnymi kosztami. Następnie książę przyrzeka także kraje swoje Litwy i Rusi wieczyście wcielić do korony królestwa polskiego.



**Zadanie 5. (0 –1)**

Wydarzenie opisane w tekście miało miejsce w okresie zaznaczonym na taśmie chronologicznej numerem

- A. 1.
- B. 2.
- C. 3.
- D. 4.

**Zadanie 6. (0–1)**

Książę obiecał odzyskać

- A. Litwę.
- B. Żmudź.
- C. Ruś Halicką.
- D. Pomorze Gdańskie.

**Tekst do zadań 7. 8. 9.**

Gwałtownym uderzeniem włóczni, Eryk powala przeciwnika na ziemię. Zataczając koniem półkole spotyka się twarzą w twarz z królem Czerwonego Miasta, rycerzem dzielnym i walecznym. Obaj trzymają wodze za pętlę, a tarcze przewieszzone na ramieniu, obaj mają piękne zbroje i świetne wierzchowce. Nacierają na siebie tak potężnie, że obie włócznie pryskają w drzazgi, odbite od nowych puklerzy.

**Zadanie 7. (0 –1)**

**Podaj nazwę obyczaju opisanego w tekście.**

.....

**Zadanie 8. (0 –1)**

**Wyjaśnij jakimi cechami powinny odznaczać się osoby opisane w tekście ?**

.....

.....

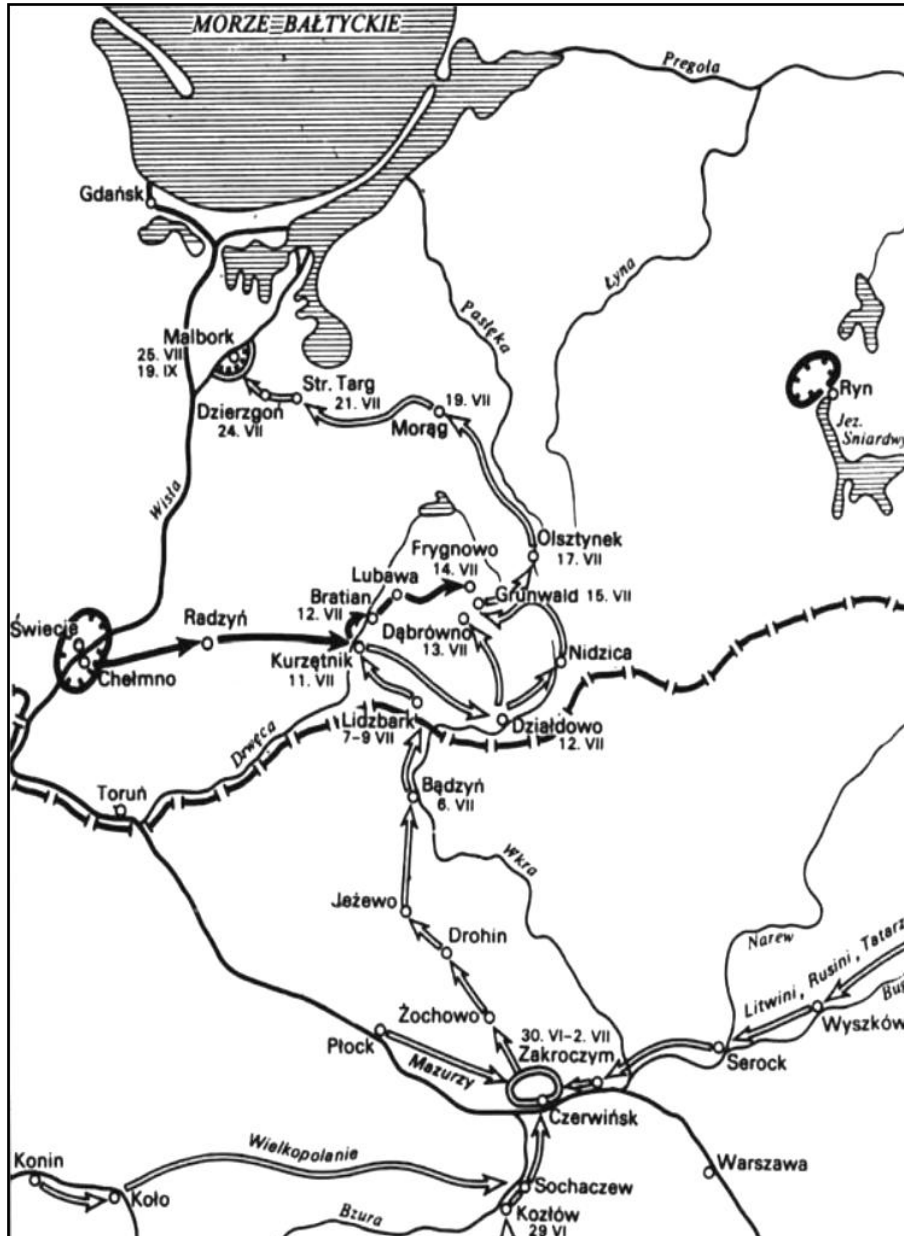
.....

**Zadanie 9. (0 –1)**

**Podaj nazwę epoki, w której obowiązywały zasady opisane w tekście.**

.....

Mapa do zadania 10.



Zadanie 10. (0-3)

Uzupełnij poniższy tekst. Przyporządkuj do każdego zdania właściwe uzupełnienie spośród oznaczonych literami A - C.

Przedstawione na planie mapy działania zbrojne pochodzą z roku **10.1.**\_\_\_\_\_ i są związane z polityką **10.2.**\_\_\_\_\_. Najważniejsze wydarzenia rozegrały się na ziemi **10.3.**\_\_\_\_\_.

- |              |                        |                        |                              |
|--------------|------------------------|------------------------|------------------------------|
| <b>10.1.</b> | A. 1410                | B. 1454                | C. 1466                      |
| <b>10.2.</b> | A. Władysława Łokietka | B. Władysława Jagiełły | C. Kazimierza Jagiellończyka |
| <b>10.3.</b> | A. mazowieckiej        | B. pomorskiej          | C. mazurskiej                |

### Ilustracja i tekst do zadania 11.



Król na tronie siadł z berłem w prawicy,  
Wokoło świetni państwa urzędnicy.  
O dzieci moje! Na tom was zgromadził,  
Z wami o dobru powszechnym się radził;  
Czegóż nim umrę, więcej mogę żądać,  
Jak jeden naród w dzieciach mych oglądać?

#### Zadanie 11. (0-3)


Na podstawie ilustracji i tekstu oraz własnej wiedzy ocen prawdziwość poniższych zdań. Zaznacz P, jeśli zdanie jest prawdziwe, albo F- jeśli jest fałszywe.

11.1.	Przedstawiona płaskorzeźba i tekst upamiętniają unię w Krewie.	P	F
11.2.	Król wymieniony w tekście należał do dynastii Piastów.	P	F
11.3.	Na płaskorzeźbie widoczny jest znak Pogoni.	P	F


### Tekst i ilustracje do zadań 12. 13.

Za największe swoje zwycięstwo szlachta uznała decyzję o prawie każdego szlachcica do wybierania króla. Tysiące ludzi będzie zbierać się w jednym miejscu i głosować. Na polach pod wsią Kamień wyborców ustawiono województwami. W środku pola znajdował się namiot dla senatu. Pierwszy przemówił prymas, potem wybrano marszałka sejmku, a następnie przez kilka dni przemawiali goście zagraniczni.

**Ilustracja 1.**



**Ilustracja 2.**



**Zadanie 12. (0-1)**

Wyjaśnij jak nazywa się wydarzenie opisane w tekście. Podaj jego pełną nazwę.

.....

**Zadanie 13. (0-2)**

Na podstawie tekstu i ilustracji oraz własnej wiedzy oceń prawdziwość poniższych zdań. Zaznacz P, jeśli zdanie jest prawdziwe, albo F- jeśli jest fałszywe.

13.1.	W tekście i na ilustracji przedstawiono zasady ustrojowe panujące w średniowiecznej Polsce.	P	F
13.2.	Opisywane w tekście wydarzenie ukazuje ilustracja 2.	P	F

**Tekst do zadań 14. 15.**

„Przysięgam w obliczu Boga  
Całemu Narodowi Polskiemu,  
Że powierzonej mi władzy  
Na niczyj prywatny ucisk nie użyję,  
Lecz jedynie dla obrony całości granic.”

**Zadanie 14. (0-1)**

Wydarzenia opisane w tekście spowodowały

- A. II rozbiór Polski.
- B. obrady Sejmu Wielkiego.
- C. ogłoszenie Konstytucji 3 Maja.
- D. wybuch powstania kościuszkowskiego.

**Zadanie 15. (0-1)**

Do wydarzeń opisanych w tekście doszło w

- A. Wilnie.
- B. Krakowie.
- C. Warszawie.
- D. Częstochowie.

### Tekst do zadania 16.

Dochodziliśmy do posągu Sobieskiego, który według planu miał być punktem zbornym dla oddziału belwederskiego. Droga nasza szła między Belwederem a Ogrodem Botanicznym. Żadnej przeszkody na niej, tylko co kilkadziesiąt kroków budka i przy niej weteran moskiewski. Widok tych weteranów natchnął jednego z nas zapytać, czy wielki książę jest w domu. „Jest” – odpowiedział weteran. Na to zapytujący: „będzie miał gości”.

### Zadanie 16. (0–3)

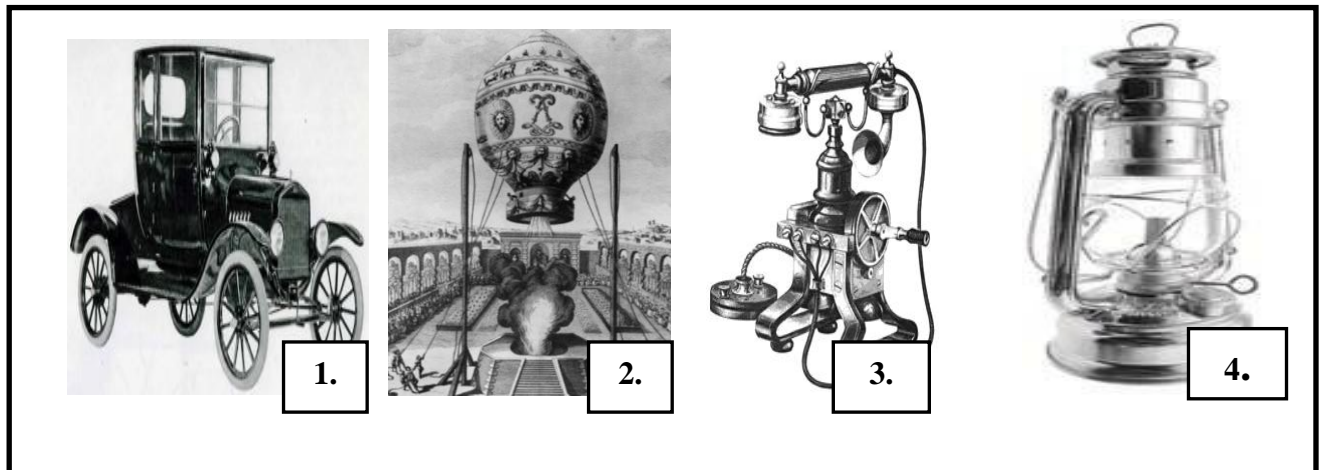
Uzupełnij poniższy tekst. Przyporządkuj do każdego zdania właściwe uzupełnienie spośród oznaczonych literami A – C.

Wydarzenia opisane w tekście dotyczą roku 16.1. \_\_\_\_\_ i doprowadziły do

16.2. \_\_\_\_\_. Wydarzenia opisane w tekście miały na celu 16.3. \_\_\_\_\_.

- |       |  |                                     |                                 |
|-------|--|-------------------------------------|---------------------------------|
| 16.1. | A. 1764                                | B. 1830                             | C. 1831                         |
| 16.2. | A. koronacji Stanisława Poniatowskiego | B. abdykacji cara Mikołaja I        | C. detronizacji cara Mikołaja I |
| 16.3. | A. towarzyskie spotkanie z księciem    | B. rozmowę dyplomatyczną z księciem | C. aresztowanie księcia         |

### Ilustracje do zadań 17. 18.



### Zadanie 17. (0 –1)

Dokończ poniższe zdanie – wybierz właściwą odpowiedź spośród podanych.

Wynalazek, dokonany przez Polaka widoczny jest na ilustracji pod nr

- A. 1.
- B. 2.
- C. 3.
- D. 4.

### Zadanie 18. (0 –1)

Uzupełnij zdanie

Do rozwoju transportu i komunikacji przyczyniły się wynalazki oznaczone numerami .....



**Tekst do zadania 19.**

Światowej sławy uczona. Dwa razy otrzymała Nagrodę Nobla: w 1903 roku z fizyki – za badania nad zjawiskiem promieniotwórczości i w 1911 roku z chemii – za prace nad radem.

**Zadanie 19. (0 –1)**

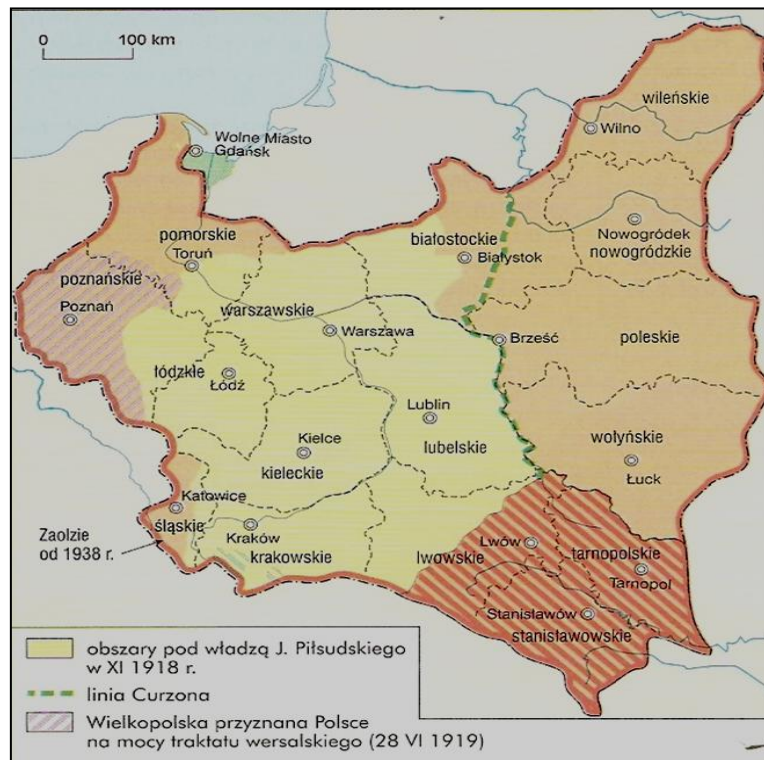
Podaj imię i nazwisko postaci opisanej w tekście.

**Zadanie 20. (0 –2)**

Uzupełnij tabelę, wpisując nazwę polityki, którą charakteryzują podane wydarzenia.

	Wydarzenia	Nazwa polityki
<b>20.1.</b>	<ul style="list-style-type: none"> <li>• protest dzieci we Wrześni</li> <li>• zakaz używania języka polskiego w szkole</li> <li>• działalność Hakaty i Komisji Kolonizacyjnej</li> </ul>	
<b>20.2.</b>	<ul style="list-style-type: none"> <li>• zmiana nazwy na Przywiślański Kraj</li> <li>• zakaz drukowania literatury w języku polskim</li> <li>• działalność kuratora A. Apuchtina</li> </ul>	

**Mapa do zadań 21. 22.**



**Zadanie 21. (0 –2)**

Oceń prawdziwość poniższych zdań. Zaznacz P, jeśli zdanie jest prawdziwe, albo F- jeśli jest fałszywe.

<b>21.1.</b>	Do II Rzeczypospolitej należały ziemie województwa warmińsko – mazurskiego.	<b>P</b>	<b>F</b>
<b>21.2.</b>	Po odzyskaniu niepodległości przez Polskę Gdańsk stał się głównym portem polskim.	<b>P</b>	<b>F</b>

**Zadanie 22. (0 –1)**

**Podaj imię nazwisko naczelnego wodza, który walczył z bolszewikami o granicę II Rzeczypospolitej**

.....

**Ilustracja do zadań 23. 24.**

Karykatura



**Zadanie 23. (0 –2)**

**Wymień imiona i nazwiska osób przedstawionych na ilustracji.**

.....

**Zadanie 24. (0 –2)**

**Wyjaśnij na czym polega wymowa satyryczna tej karykatury.**

.....

.....

**Tekst do zadań 25. 26.**

Wiersz Feliksa Konarskiego

Tej nocy zgładzono Wolność  
W lesie...  
Zdradzieckim strzałem w czaszkę  
Pokwitowano Wrzesień.

W podartym jenieckim płaszczu  
Martwą do rowu zepchnięto  
I zasypano ziemią  
Krwia na wskroś przesiąkniętą.

Zgładzono sprawiedliwość,  
Prawdę i wolność zgładzono  
Zdradziecko w smoleńskim lesie  
Pod obcej nocy osłoną.

**Zadanie 25. (0 –1)**

Podaj nazwę wydarzenia, którego dotyczy wiersz.

.....

**Zadanie 26. (0 –1)**

Decyzja w sprawie wydarzeń opisanych w wierszu zapadła w

- A. wrześniu 1939 r.
- B. marcu 1940 r.
- C. czerwcu 1941 r.
- D. październiku 1943 r.

**Tekst do zadań 27. 28.**

Maciej Dawidowski jako członek organizacji "Wawer" brał czynny udział w akcjach organizowanych przez Mały Sabotaż. Zmarł 30 marca 1943 r. w wyniku rany postrzałowej odniesionej podczas akcji pod Arsenalem.

**Zadanie 27. (0 –2)**

Oceń prawdziwość poniższych zdań. Zaznacz P, jeśli zdanie jest prawdziwe, albo F- jeśli jest fałszywe.

27.1.	Organizacja opisana w tekście miała związek z działalnością Szarych Szeregów.	P	F
27.2.	Akcja pod Arsenalem miała na celu odbicie z rąk hitlerowców członka Podziemnego Państwa Polskiego o pseudonimie Alek.	P	F

**Zadanie 28. (0 –1)**


Na podstawie tekstu i własnej wiedzy wybierz właściwe zakończenie zdania.

Wydarzenia przedstawione w tekście nosiły nazwę

- A. kolaboracji.
- B. ruchu oporu.
- C. eksterminacji.
- D. szmalcownictwa.

**Ilustracja do zadania 29.**

Plakat



**Zadanie 29. (0 –1)**

Podaj datę (miesiąc i rok) początku wydarzenia którego dotyczy plakat. ....