



Nr zad.	1	2	3	4	5	6	7	8	9	10	11	12	13	14	15	16	17	18	19	20	
pkt																					
KOD UCZNIĄ .....																		Suma punktów	%		

## KONKURS Z GEOGRAFII

dla uczniów szkół podstawowych województwa warmińsko-mazurskiego

w roku szkolnym 2021/2022

eliminacje szkolne

***Droga Uczennico, Drogi Uczniu!***

*Witam Cię w pierwszym etapie konkursu. Przed Tobą 20 zadań testowych, różnego typu, za które możesz uzyskać **maksymalnie 40 punktów**. Przy każdym zadaniu w nawiasie jest podana punktacja. Na wykonanie testu masz 60 minut.*

*W arkuszu zadań, we wskazanym miejscu, **wpisz swój kod**.*

*Powodzenia !*

*Przewodnicząca Wojewódzkiego Konkursu z geografii*

*mgr Magdalena Jankun*

### Zadanie 1. ( 0-1)

Dwie drużyny wioślarek w ramach obozu sportowego miały do przepłynięcia odcinek Wisły, od Puław do Grudziądza. Korzystając z poniższej mapy, oblicz, jaką odległość musiały pokonać, aby dotrzeć do celu, wiedząc, że odległość na mapie wynosi 9 cm.



Źródło: Wydawnictwo Edukacyjne Wiking, licencja: CC BY 3.0./ <https://zpe.gov.pl/>

Wybierz właściwą odpowiedź spośród podanych:

- A. 450 km
- B. 4500 km
- C. 90 km
- D. 900 km

**Zadanie 2. ( 0-2)**

Na podstawie mapy ( zamieszczonej w zad.1) i swojej wiedzy przyporządkuj krainy geograficzne do odpowiedniego pasa ukształtowania powierzchni Polski.

Dokończ zdania A B C D, wybierając jedno uzupełnienie 1, 2, 3, 4, 5 lub 6. Wpisz odpowiedzi w miejscu pod tabelą.

A.	Bory Tucholskie znajdują się	1.	w pasie pobraży.
B.	Kotlina Warszawska znajduje się	2.	w pasie pojezierzy.
C.	Niecka Nidziańska znajduje się	3.	w pasie nizin.
		4.	w pasie wyżyn.
D	Wzniesienia Górowskie znajdują się	5.	w pasie kotlin.
		6.	w pasie gór.

A	
B	
C	
D	

**Zadanie 3. ( 0-1)**

Polska wyróżnia się różnorodnością krajobrazów, na które miały wpływ różne czynniki przyrodnicze. Przeczytaj opisy charakteryzujące krainy geograficzne Polski, a następnie wybierz właściwe spośród podanych.

**WYŻYNA ŚLĄSKA, WYŻYNA LUBELSKA, POBRZEŻE SŁOWIŃSKIE, NIZINA MAZOWIECKA, NIZINA ŚLĄSKA, ŻUŁAWY WIŚLANE, POJEZIERZE MAZURSKIE**

A.	Przeważa na tym terenie krajobraz rolniczy. Charakterystycznym elementem są pola uprawne. Występują urodzajne gleby takie jak czarnoziemy. Dominują niewielkie wzniesienia o łagodnych stokach. Cechą charakterystyczną są wąwozy powstałe w skałach lessowych.	
B.	Stanowi duży obszar, w większości równinny, ale również występują wzniesienia o wysokości bezwzględnej większej niż 250 m n.p.m. oraz wydmy porośnięte lasami sosnowymi. Najbardziej malownicze wydmy są objęte ochroną na terenie parku narodowego. W krajobrazie tym dominują również plantacje jabłoni, gospodarstwa sadownicze i zakłady przetwórstwa owocowego.	

**Zadanie 4. ( 0-1)**

Dokończ zdanie. Wybierz odpowiedź A lub B i jej uzupełnienie 1, 2 albo 3.



Źródło: <https://skomplikowane.pl/>

**Fotografia przedstawiająca obiekt wpisany na listę światowego dziedzictwa UNESCO to**

A.	krzemionki opatowskie	znajdujące się	1.	w kamieniołomach w Kazimierzu Dolnym w województwie lubelskim.
			2.	w kopalni soli w Wieliczce w województwie małopolskim
B.	pokłady soli		3.	w rezerwacie archeologicznym w województwie świętokrzyskim.

### Zadanie 5. ( 0-3)

Na mapie Polski numerami od 1 do 6 oznaczono położenie obiektów wpisanych na listę światowego dziedzictwa kulturowego UNESCO.



[https://pl.wikipedia.org/wiki/Lista\\_%C5%9Bwiatowego\\_dziedzictwa\\_UNESCO\\_w\\_Polsce](https://pl.wikipedia.org/wiki/Lista_%C5%9Bwiatowego_dziedzictwa_UNESCO_w_Polsce)

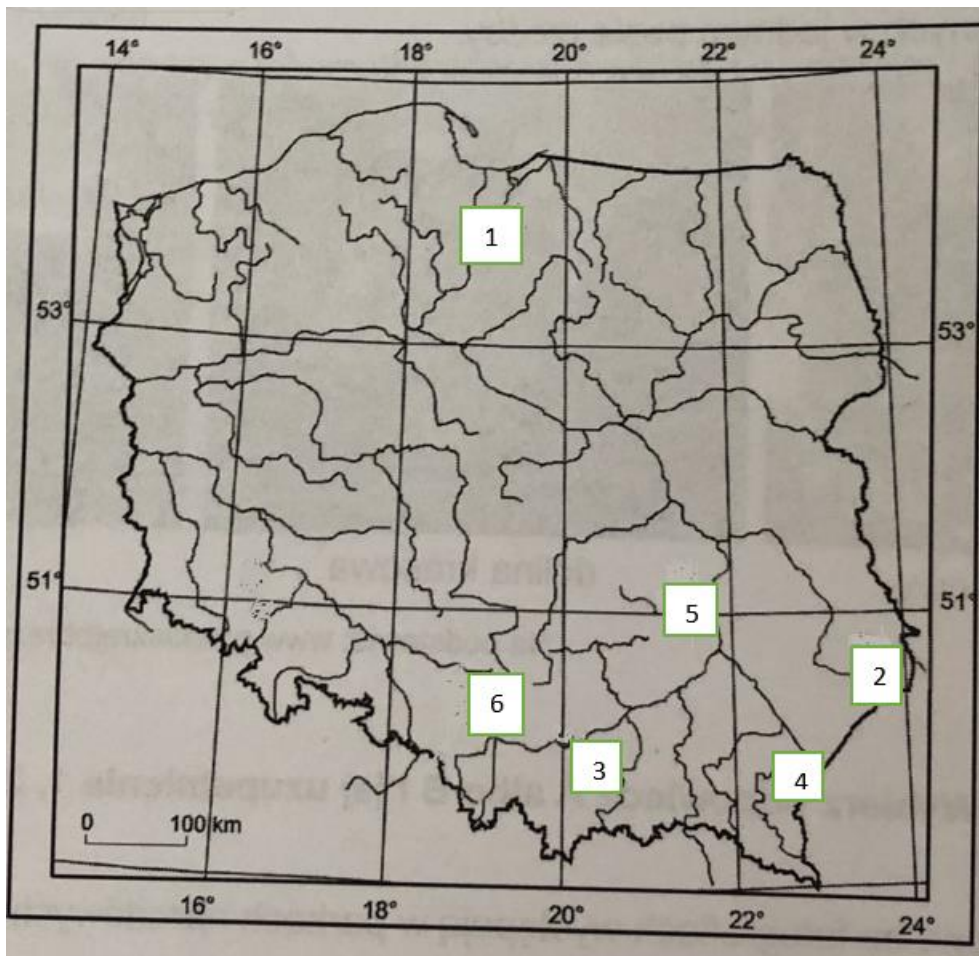
**Uzupełnij tabelę. Wpisz obok nazwy obiektu cyfrę, którą określono jego położenie na mapie. W kolumnie ostatniej wpisz województwo, w którym się ono znajduje.**

Obiekt wpisany na listę UNESCO	Położenie na mapie ( cyfra)	Województwo
Hala Stulecia		
Auschwitz-Birkenau- zespół niemieckich, nazistowskich obozów koncentracyjnych		
Podziemia w Tarnowskich Górach. Nieczynne kopalnie rud ołowiu, cynku i srebra		

### Zadanie 6. (0-2)

Na mapie Polski cyframi 1-6 oznaczono miasta. Poniżej przyporządkowano je do liter A-F

- A. Zamość
- B. Malbork
- C. Częstochowę
- D. Kraków
- E. Przemyśl
- F. Ostrowiec Świętokrzyski



Uzupełnij tabelę. Wpisz obok współrzędnych geograficznych numer, którym wskazano położenie miasta na mapie oraz literę, którą oznaczono jego nazwę.

Współrzędne geograficzne obiektu	Położenie miasta na mapie	Miasto
50° 43' N; 23° 15' E		
49°47' N; 22°46' E		
54°02' N; 19°01' E		

### Zadanie 7. (0-1)

Korzystając z mapy (z zadania 6. ), dokończ zdanie. Wybierz odpowiedź A albo B, i jej uzasadnienie 1, 2 lub 3.

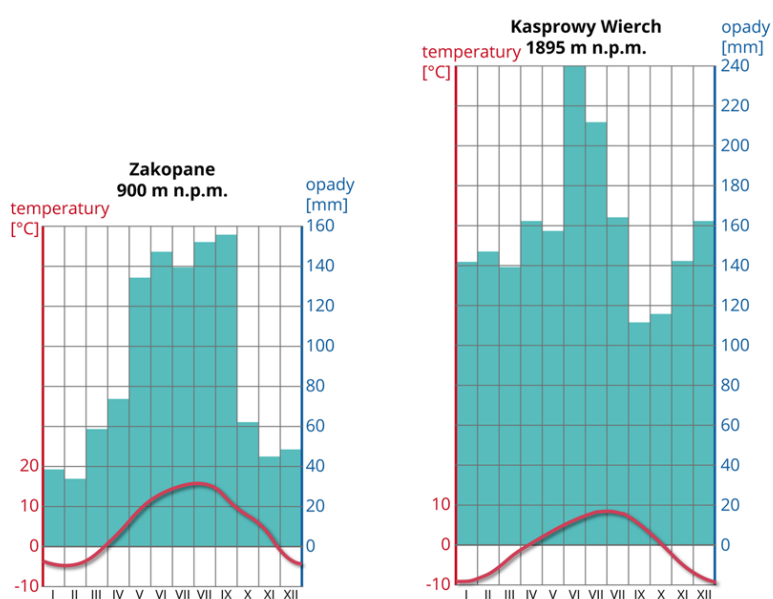
**22 czerwca wysokość górowania Słońca jest większa**

A.	w Krakowie niż w Ostrowcu Świętokrzyskim	ponieważ	1.	Kraków położony jest bardziej na zachód Ostrowca Świętokrzyskiego.
B.	w Ostrowcu Świętokrzyskim niż w Krakowie		2.	Ostrowiec Świętokrzyski położony jest bardziej na wschód od Krakowa.
			3.	Ostrowiec Świętokrzyski położony jest na północ od Krakowa.

### Zadanie 8. (0-3)

Na podstawie klimatogramów wykonaj polecenia i zapisz odpowiedzi w tabeli.

- Odczytaj z klimatogramu Kasprowego Wierchu i Zakopanego najwyższą i najniższą średnią miesięczną temperaturę oraz miesiące, w których ją odnotowano.
- Odczytaj z klimatogramu Kasprowego Wierchu i Zakopanego maksymalną sumę opadów oraz miesiąc, w którym ją odnotowano.
- Podaj przyczynę związaną z różnicą temperatur i sumą opadów atmosferycznych w przedstawionych stacjach.



Źródło: Englishsquare.pl sp. z o.o., CC BY-SA 3.0, <https://creativecommons.org/licenses/by-sa/3.0/>.

Stacja meteorologiczna	Najniższa temperatura w stopniach C/ miesiąc/miesiące	Najwyższa temperatura w stopniach C miesiąc/miesiące	Maksymalna suma opadów w mm / miesiąc
Zakopane			
Kasprowy wierch			
Przyczyna			

### Zadanie 9. (0-2)

Przyporządkuj do każdego opisu imię i nazwisko podróżnika ( wstaw w puste miejsce przyporządkowaną literę).

A. Edmund Strzelecki	B. Ferdynand Magellan	C. Henryk Arctowski	D. Krzysztof Kolumb
----------------------	-----------------------	---------------------	---------------------

Portugalski żeglarz, organizator pierwszej podróży dookoła świata.	
Badacz obszarów polarnych.	
Żeglarz i odkrywca Ameryki.	
Podróżnik i badacz Australii, Ameryki Północnej i Ameryki Południowej.	

### Zadanie 10. (0-1)

Różnica szerokości geograficznych między najdalej wysuniętymi na północ i na południe punktami badanymi obszaru to:

- A. rozciągłość równoleżnikowa.
- B. rozciągłość południkowa.
- C. rozciągłość szerokości.
- D. rozciągłość równikowa.



**Zad.11. (0-3)**

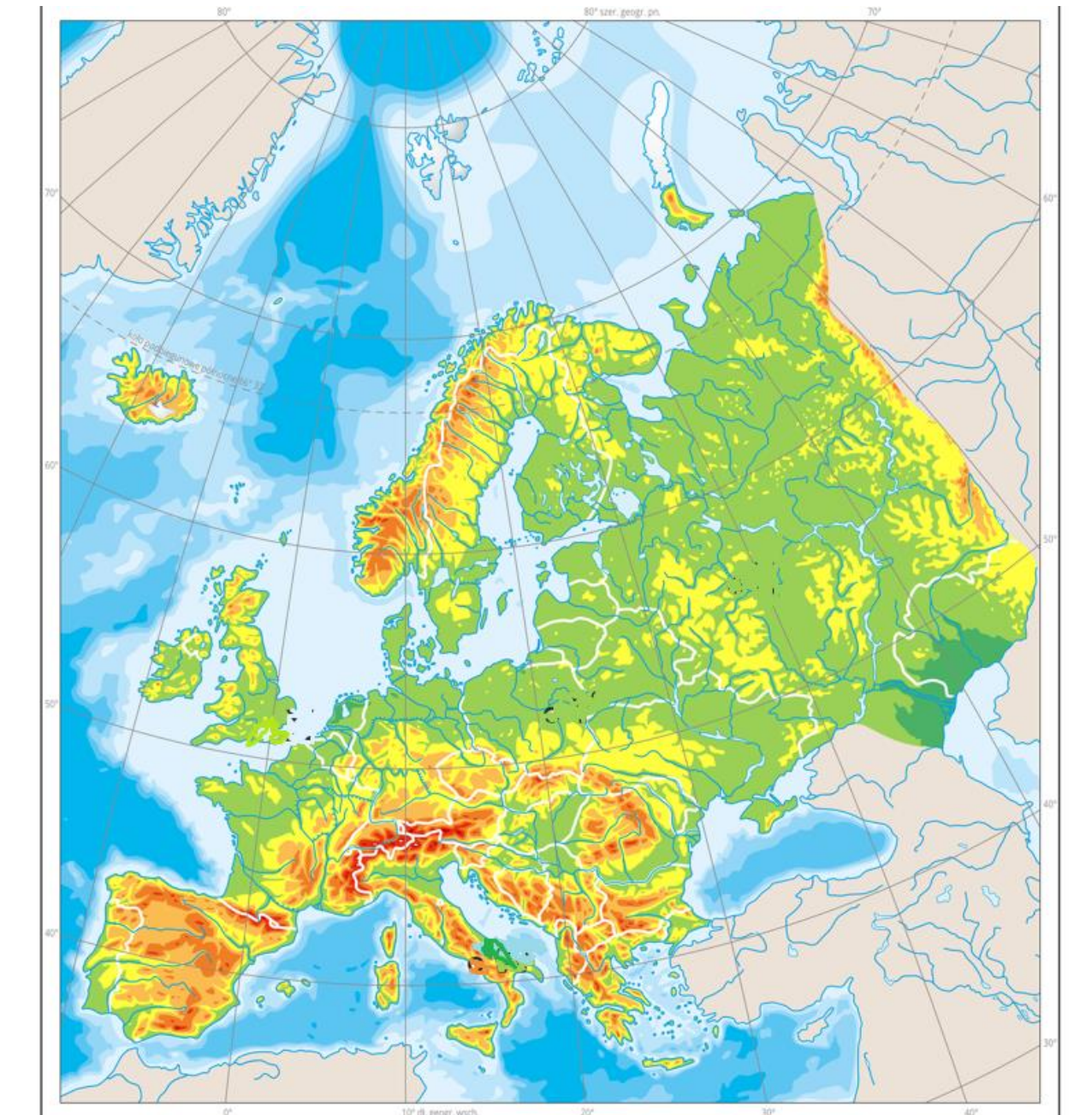
Przeanalizuj zdania dotyczące stref klimatycznych i roślinnych Ziemi. Przy każdym z nich wskaż zdania prawdziwe (P) lub fałszywe (F).

	PRAWDA	FAŁSZ
W klimacie śródziemnomorskim lato jest deszczowe a zima sucha.	P	F
Tajga to lasy liściaste strefy umiarkowanej północnej.	P	F
Sawanna ma dwie wyraźne pory roku: suchą i deszczową; zamieszkują ją między innymi nietlone ptaki- strusie, bawoły, gepardy.	P	F
Agawy, rozchodniki, kaktusy, aloesy to rośliny spotykane na obszarze gorących pustyń i półpustyń.	P	F
W strefie sawann występują palmy, storczyki, liany, bananowce, paprocie drzewiaste.	P	F
Tundra ma bardzo krótkie chłodne lato i długą mroźną zimę; średnia temperatura roczna poniżej 0°C, średnia temperatura najcieplejszego miesiąca poniżej 10°C.	P	F

**Zadanie 12. (0-5)**

Na mapę Europy nanieś w odpowiednich miejscach cyfry, które są przyporządkowane do obiektów geograficznych znajdujących się w tabeli.

1. Zatoka Lwia	5. Przylądek Roca	9. Szetlandy
2. Cieśnina Mesyńska	6. Rodopy	10. Półwysep Jutlandzki
3. Zatoka Biskajska	7. Góry Kambryjskie	11. Góry Betyckie
4. Baleary	8. Półwysep Kanin	12. Zatoka Oneska



Źródło: Wydawnictwo Edukacyjne Wiking, licencja: CC BY 3.0

### Zadanie 13. ( 0-1)

Korzystając z mapy Europy ( z zad. 12.), wskaż właściwą kolejność zachodu Słońca w miastach (zaczynając od miejsca, które rozpoczyna to zjawisko): Mińsk, Dublin, Belgrad, Barcelona. Wybierz właściwą odpowiedź spośród podanych.

- A. Dublin, Belgrad, Barcelona, Mińsk
- B. Barcelona, Belgrad, Dublin, Mińsk
- C. Belgrad, Mińsk, Barcelona, Dublin
- D. Mińsk, Belgrad, Barcelona, Dublin

### Zadanie 14. ( 0-3)

Przeanalizuj dane statystyczne z poniższej tabeli. Na ich podstawie uzupełnij zdania.

	POLSKA	NIEMCY	REP. CZESKA	REP. SŁOWACKA	UKRAINA	BIAŁORUŚ	LITWA
<b>Struktura PKB</b>	rolnictwo 3,7%	rolnictwo 0,9%	rolnictwo 2,6%	rolnictwo 3,4%	rolnictwo 12,1%	rolnictwo 7,3%	rolnictwo 3,7%
	przemysł 32,0%	przemysł 30,7%	przemysł 37,4%	przemysł 22,5%	przemysł 29,1%	przemysł 37,0%	przemysł 28,2%
	usługi 64,3%	usługi 68,4%	usługi 60,0%	usługi 74,1%	usługi 58,8%	usługi 55,7%	usługi 68,1%
<b>Użytki rolne</b>	60,0% powierz. kraju	48,0% powierz. kraju	54,8% powierz. kraju	40,1% powierz. kraju	71,2% powierz. kraju	43,7% powierz. kraju	44,8% powierz. kraju
<b>Plony zbóż</b>	38,0 dt/ha	73,2dt/ha	52,5 dt/ha	44,9 dt/ha	40,6 dt/ha	30,1 dt/ha	36,8 dt/ha
<b>Struktura produkcji energii elektrycznej- elektrownie:</b>	cieplne 93% jądrowe 0% wodne 2% pozostałe 5%	cieplne 46% jądrowe 7% wodne3% pozostałe 44%	cieplne 56% jądrowe 19% wodne 5% pozostałe 20%	cieplne 39% jądrowe 22% wodne19% pozostałe 20%	cieplne 64% jądrowe 24% wodne10% pozostałe 2%	cieplne 99% jądrowe 0% wodne 0% pozostałe 1%	cieplne 69% jądrowe 0% wodne 3% pozostałe 28%
<b>Długość autostrad:</b>	1 556 km	12 800km	730 km	420 km	17 km	0 km	312 km

Dane gospodarcze dotyczące Polski i jej sąsiadów (2014 r.) Źródło:static.zpe.gov.pl/portał

**Uzupełnij zdania w tabeli, wpisz odpowiedź w pustych miejscach w tabeli.**

Korzystając z danych statystycznych, wskaż państwo, w którym rolnictwo ma najwyższy wpływ na tworzenie PKB.	
Państwo, w którym elektrownie jądrowe stanowią 24% w strukturze produkcji energii elektrycznej.	
Oblicz, ile wynosi różnica procentowa użytków rolnych między Polską a Niemcami.	
Państwo, które w 2014 roku wyróżniało się największymi plonami zbóż w dt/ha.	
Odczytaj, w którym państwie do 2014 roku nie został wybudowany ani jeden kilometr autostrady.	

**Zadanie 15. ( 0-2)**

W tabeli umieszczono dane z czterech stacji meteorologicznych leżących na 15°E w Europie na podobnych wysokościach n.p.m. Uporządkuj je, zaczynając od stacji leżącej najdalej na południu, a kończąc na stacji leżącej najdalej na północy. Odpowiedź wpisz w poniższe kratki.

Dane dla stacji klimatycznych **A, B, C, D**

	Temperatura powietrza w styczniu (°C)	Temperatura powietrza w lipcu (°C)	Średnia temperatura roczna (°C)	Roczna suma opadów (mm)
<b>A</b>	10,2	25,6	17,5	1150
<b>B</b>	-2,9	18,7	7,9	545
<b>C</b>	0,6	21,7	11,2	618
<b>D</b>	-2,5	11,9	4,2	1030

Południe

Północ

--	--	--	--

**Zadanie 16. (0-1)**

Wskaż, w którym zestawie umieszczono nazwy państw bliskowschodnich znad Zatoki Perskiej będących wielkimi producentami ropy naftowej.

- A. Jordania, Liban, Jemen
- B. Arabia Saudyjska, Kuwejt, Iran
- C. Oman, Syria, Turcja
- D. Izrael, Jemen, Syria

**Zadanie 17. (0-2)**

Do podanych miast Ukrainy dopisz wyrażenia związane z działalnością człowieka.

Wyrażenia wybierz z podanych niżej:

stolica kraju	skupisko ludności polskiej	wydobycie węgla kamiennego
duży port morski	zniszczona elektrownia atomowa	wydobycie rudy żelaza
miasto na granicy z Polską	zbrodnia katyńska	zniszczona elektrownia wiatrowa

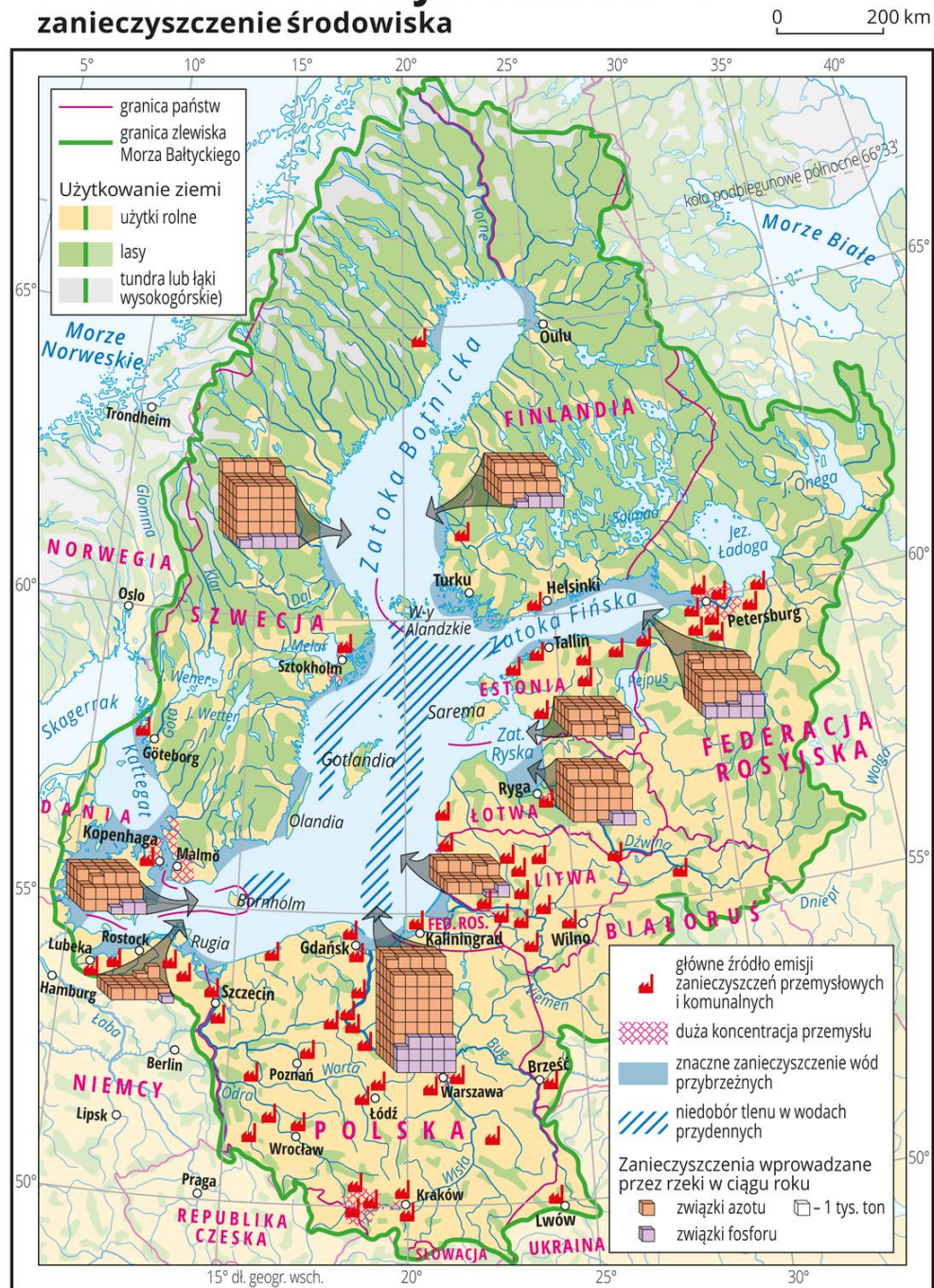
<b>Lwów</b>	
<b>Kijów</b>	
<b>Odessa</b>	
<b>Donieck</b>	
<b>Krzywy Róg</b>	
<b>Czarnobyl</b>	

## Zadanie 18 ( 0-2)

- A. Wymień trzy państwa będące największymi truciicielami Bałtyku, biorąc pod uwagę zanieczyszczenia związkami fosforu.

1.	2.	3.
----	----	----

## MORZE BAŁTYCKIE I JEGO ZLEWISKO zanieczyszczenie środowiska



Źródło: Wydawnictwo Edukacyjne Wiking, licencja: CC BY 3.0.

B. Przeanalizuj mapę Morza Bałtyckiego. Zaznacz w poniższej tabeli przy każdym zdaniu, czy jest ono prawdziwe (P) czy fałszywe (F).

1.	Mały Bełt, Wielki Bełt i Sund to obszary z największymi zanieczyszczeniami wód przybrzeżnych Bałtyku.	P	F
2.	Znaczny niedobór tlenu występuje w wodach przydennych w pobliżu Olandii.	P	F
3.	Litwa ma mniej emisji zanieczyszczeń komunalnych i przemysłowych niż Estonia.	P	F

Zadanie 19 ( 0-2)

Przeanalizuj mapę Azji Południowo- Wschodniej i uzupełnij luki w zdaniach.



Źródło: Wydawnictwo Edukacyjne Wiking, licencja: CC BY 3.0.

Azja Południowo-Wschodnia to region, który prawie w całości leży na południe od zwrótnika ..... aż po .....<sup>o</sup> szerokości geograficznej ... . Składa się on z wielkiego Półwyspu....., którego wschodnie wybrzeże zajmują Góry ....., a od zachodu półwysep obrzeżają Góry ..... i ..... . Azja Południowo- Wschodnia to tysiące wysp tworzących Archipelag ..... Największą wyspą jego jest ..... , trzecia co do wielkości wyspa świata. Jednym z najbardziej znanych wulkanów na świecie jest Krakatau, leżący na wyspie o tej samej nazwie w Cieśninie Sundajskiej, między wyspą ..... a ..... .

**Zadanie 20. ( 0-1)**

Podane nazwy regionów Chin uporządkuj według wysokości bezwzględnej- od najwyższych do najniższych.

**NIZINA CHIŃSKA, KARAKORUM, HIMALAJE, GÓRY POŁUDNIOWOCHIŃSKIE, WYŻYNA TYBETAŃSKA**

1.
2.
3.
4.
5.



## BRUDNOPIS