

Kod ucznia

KONKURS Z HISTORII

WARMIŃSKO-MAZURSKIEGO KURATORA OŚWIATY DLA UCZNIÓW SZKÓŁ PODSTAWOWYCH ETAP WOJEWÓDZKI ROK SZKOLNY 2025/2026

Szanowny Uczniu!

Witaj na etapie wojewódzkim Konkursu z Historii.

Zanim rozpoczniesz rozwiązywać test, przeczytaj uważnie instrukcję.

1. Arkusz liczy 13 stron i zawiera 24 zadania.
2. Przed rozpoczęciem pracy sprawdź, czy Twój test jest kompletny. Jeżeli zauważysz usterki, zgłoś je Komisji Konkursowej.
3. Zadania czytaj uważnie.
4. Odpowiedzi wpisuj czarnym lub niebieskim długopisem.
5. Dbaj o czytelność pisma i precyzję odpowiedzi.
6. Błędnie zamalowaną kratkę otocz kółkiem.
7. Nie używaj korektora. Jeśli się pomylisz, przekreśl błędną odpowiedź i wpisz poprawną.

Powodzenia!


Czas pracy: 90 minut

Liczba punktów możliwych do uzyskania: 40

Zadanie 1. Podkreśl 3 cechy charakterystyczne dla osiadłego stylu życia. /0-1/

Hodowla zwierząt, ciągła zmiana miejsca zamieszkania, uprawa zbóż,
gospodarka oparta na zbieractwie i łowiectwie, budowa trwałych domów.

Zadanie 2. Zamaluj kratkę przy prawidłowej odpowiedzi. /0-1/



1



2



3



4

<https://pl.wikipedia.org/>

A. Na obszarze starożytnej Mezopotamii wzniesiono budowlę oznaczoną cyfrą

1.

2.

3.

4.

B. Funkcję świątyni pełniły budowle oznaczone cyframi

1 i 4.

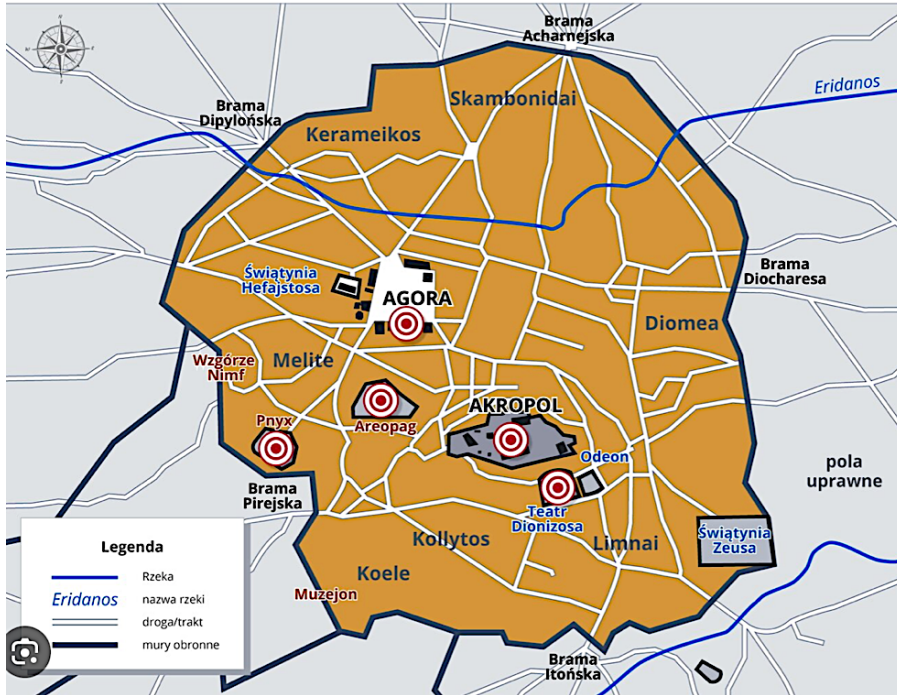
3 i 4.

2, 3 i 4.

1, 2 i 3.

Zadanie 3. Która mapa przedstawia starożytne Ateny? Uzasadnij swój wybór. /0-1/

Mapa A



Zpe.gov.pl

Mapa B




Mapa-

Uzasadnienie -

.....

.....

Zadanie 4. Zamaluj kratki przy właściwym dokończeniu zdania. /0-1/



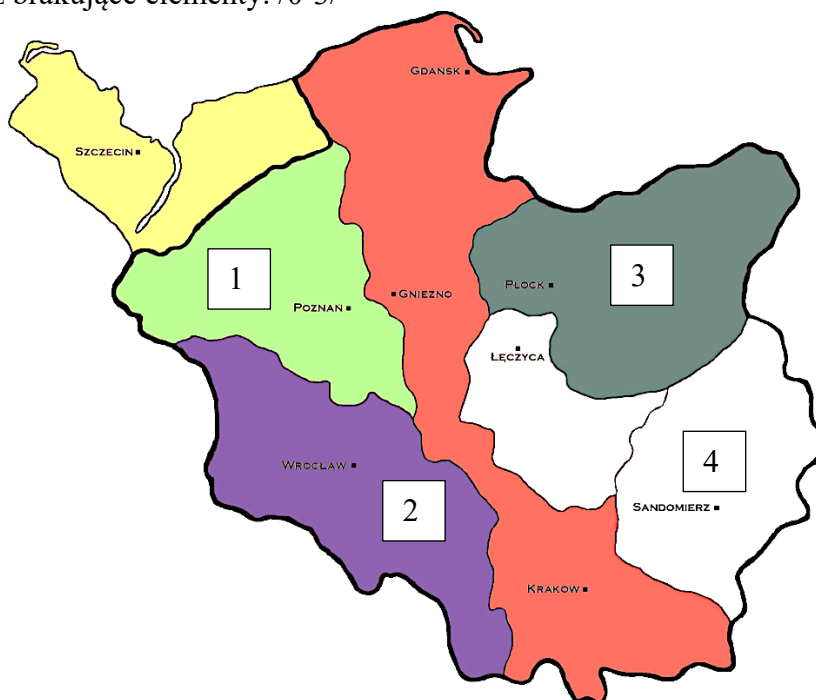
Na ilustracji znajduje się

- Kodeks Hammurabiego.
- Prawo XII tablic.
- Kodeks Justyniana.

Prawo to uchwalono w

- Rzymie w czasach republiki.
- Rzymie w czasach cesarstwa.
- w Babilonie.

Zadanie 5. Na podstawie mapy i własnej wiedzy uzupełnij tabelkę dotyczącą statutu Bolesława Krzywoustego i wpisz brakujące elementy. /0-3/



Numer z mapy	Władca (wpisz imię i przydomek)	Nazwa ziemi
1		
	Władysław Wygnaniec	
		Mazowsze

Zadanie 6. Przeczytaj uważnie poniższy tekst źródłowy, a następnie korzystając z informacji w nim zawartych i własnej wiedzy zamaluj kratkę przy właściwym zakończeniu zdania. /0-3/

Fragment reguły św. Benedykta

1. [...] gdy tylko przełożony wyda jakieś polecenie, nie zwlekają [mnisi] ani chwili z jego wykonaniem tak, jak gdyby sam Bóg rozkazywał. [...] Tacy właśnie porzucają natychmiast swoje sprawy i wyrzekają się własnej woli. Od razu wszystko wypuszczają z ręki i pozostawiają nie ukończoną pracę, którą wykonywali, aby jak najrychlej w duchu posłuszeństwa odpowiedzieć czynem na otrzymane polecenie.
2. Bezczyność jest wrogiem duszy. Dlatego też bracia muszą się zajmować w określonych godzinach pracą fizyczną i również w określonych godzinach czytaniem duchownym [modlitwą].
3. Klasztor zaś, jeśli to możliwe, tak powinien być zorganizowany, żeby można było znaleźć w obrębie jego murów wszystko, co niezbędne, a więc wodę, młyn, ogród, jak również różne warsztaty rzemieślnicze, tak aby mnisi nie musieli włożyć się na zewnątrz, co nie przynosi zgoła pożytku ich duszom. Źródło: opoka.org.pl

A. Reguła, która nakładała na mnichów zasadę bezwzględnego posłuszeństwa wobec przełożonego znajduje się w punkcie

1. 2. 3.

B. Do reguły w punkcie 2. pasują słowa

- „Pamiętaj o śmierci”. „Chwytaj dzień”. „Módl się i pracuj”.

C. Mnisi nie musieli opuszczać klasztoru, ponieważ

- dostarczano im zaopatrzenie z miasta.
 sami wytwarzali wszystkie produkty w klasztorze.
 otrzymywali je od okolicznych chłopów.

Zadanie 7. Na podstawie danych z tabeli oraz wiedzy własnej określ, czy poniższe zdania są prawdziwe czy fałszywe. Wpisz w odpowiednie miejsce „Prawda” (zdanie prawdziwe) lub „Fałsz” (zdanie fałszywe). /0-2/

Zmiany powierzchni Polski (X–XVIII wiek)

rok	powierzchnia w tys. km ²
1000	250
1300	200
1370	240
1466	260
1580	865
1634	990
1771	733

Historia Polski w liczbach, Warszawa 1994,

	Zdanie	Prawda/Fałsz
A.	W roku śmierci Kazimierza Wielkiego terytorium państwa było mniejsze niż w roku zjazdu gnieźnieńskiego.	
B.	W roku koronacji Wacława II na króla Polski terytorium państwa było większe niż przed pierwszym rozbiorem Polski.	
C.	W roku podpisania 2. pokoju toruńskiego państwo polskie miało największą powierzchnię.	

Zadanie 8. Analizując poniższe ilustracje, podaj nazwy stylów architektonicznych przedstawionych budowli oraz 1 cechę charakterystyczną dla każdego z nich, widoczną na ilustracjach. /0-2/

A



<https://pl.wikipedia.org/>

Styl architektoniczny -

1 cecha stylu -

B

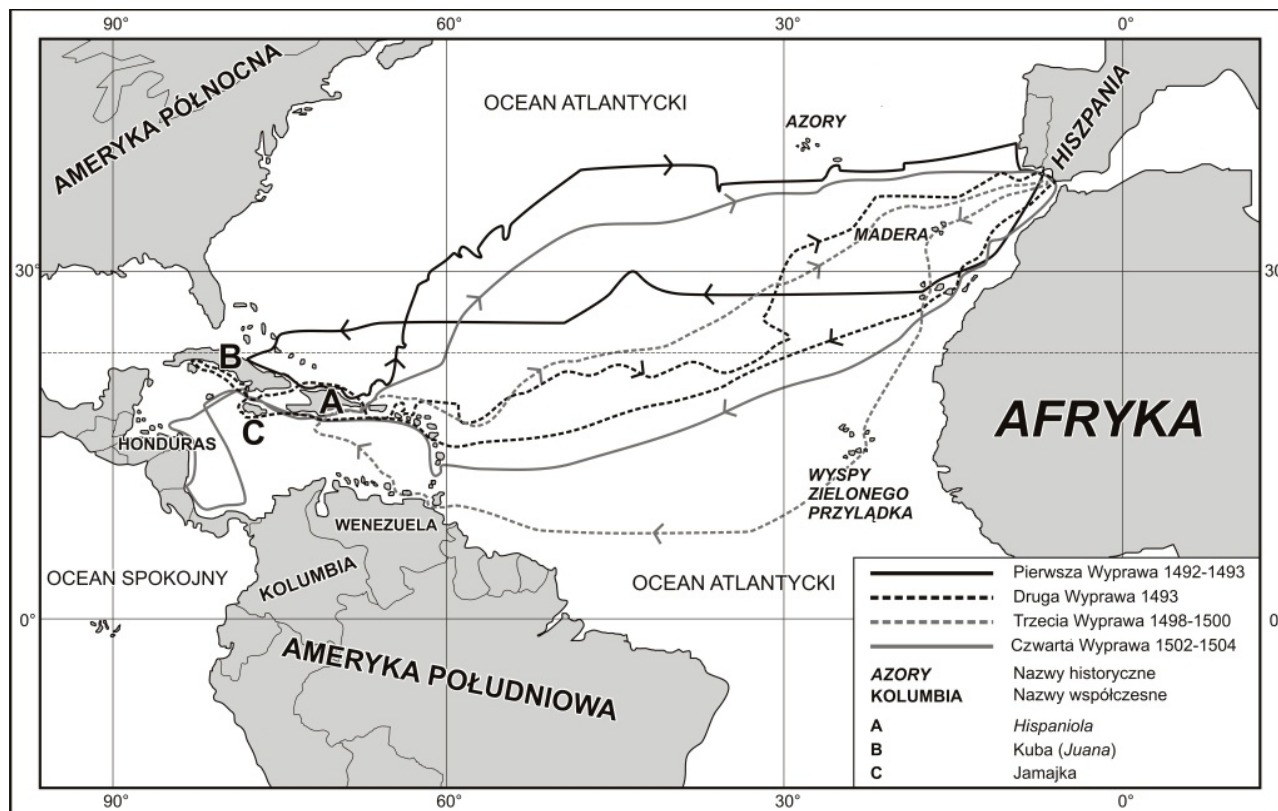


<https://pl.wikipedia.org/>

Styl architektoniczny -

1 cecha stylu -

Zadanie 9. Zapoznaj się z mapą, a następnie korzystając z informacji w niej zawartych i własnej wiedzy dokończ zdania dotyczące wielkich odkryć geograficznych. /0-3/



Wikipedia.

- A. Mapa pokazuje wyprawy(imię i nazwisko odkrywcy)
 B. Głównym celem pierwszej wyprawy odkrywcy było
 C. Nowo odkryte tereny stały się koloniami(państwo)

Zadanie 10. Dopasuj 1 przyczynę i 1 skutek do każdego z poniższych wydarzeń. /0-3/

- A. Powstanie protestantyzmu.
 B. Powstanie Stanów Zjednoczonych Ameryki Północnej.
 C. Niezadowolenie z polityki prowadzonej przez Kościół, m.in. sprzedaży odpustów.
 D. Spór króla Karola I z parlamentem o władzę.
 E. Wprowadzenie monarchii parlamentarnej w Anglii.
 F. Nałożenie nowych podatków na mieszkańców kolonii.

Wydarzenie	Przyczyna	Skutek
Reformacja w Europie		
Wojna o niepodległość Stanów Zjednoczonych		
Rewolucja angielska w XVII wieku		

Zadanie 11. Przeczytaj tekst źródłowy, a następnie odpowiedz na pytania. /0-3/

„Iż już Królestwo Polskie i Wielkie Księstwo Litewskie jest jedno nierozdzielne i nieróżne ciało, a także nieróżna ale jedna a spólna [wspólna] Rzeczpospolita, która się z dwu państw i narodów w jeden lud zniosła i spoił. A temu obojemu narodowi żeby już wiecznymi czasy jedna głowa, jeden pan i jeden król spólny [wspólny] rozkazywał, który spólnymi [wspólnymi] głosy od Polaków i od Litwy obran [wybrany] (...). A przy koronacji nowego króla mają być przez króla koronowanego poprzysiężone i zaraz konfirmowane [zatwierdzone] na jednym liście i jednymi słowy na wieczne czasy prawa, przywileje i wolności poddanych wszystkich obojga narodów i państw tak złączonych. Sejmy i rady ten oboj naród ma zawsze mieć spólne [wspólne] koronne pod królem polskim (...) i radzić o spólnych [wspólnych] potrzebach tak na sejmiech [sejmie], jako i bez sejmów, w Polsce i w Litwie”

- A. Gdzie i kiedy uchwalono ten dokument?
- B. Jak nazywał się ówczesny władca Polski?
- C. Jaką nazwę przybrał kraj utworzony w wyniku podpisania tego dokumentu?
.....

Zadanie 12. Do podanych w tabeli wyjaśnień wybierz odpowiednie pojęcia. /0-2/

Sejm walny, wojsko kwarciane, pacta conventa, sarmatyzm, romantyzm, pospolite ruszenie, sejmik ziemski, artykuły henrykowskie

	Pojęcie	Wyjaśnienie
A		Ideologia i styl życia szlachty polskiej od XVI do XVIII w., związana z poglądem, że szlachta pochodzi od jednego ze starożytnych ludów.
B		Osobiste zobowiązania polskich królów elekcyjnych.
C		Zgromadzenie szlachty z danego regionu.
D		Szlachta powoływana pod broń w czasie wojny

Zadanie 13. Podaj 2 przyczyny wybuchu i 2 skutki powstania Chmielnickiego. /0-2/

Przyczyny

-
-

Skutki

-
-


Zadanie 14. Na podstawie obrazu „Konstytucja 3 Maja 1791 r.” oraz wiedzy własnej określ, czy poniższe zdania są prawdziwe czy fałszywe. Wpisz w odpowiednie miejsce „Prawda” (zdanie prawdziwe) lub „Fałsz” (zdanie fałszywe). /0-2/



<https://pl.wikipedia.org/>

Zdanie		Prawda/Fałsz
A.	Marszałkiem Sejmu Wielkiego (oznaczonym strzałką) był Stanisław Staszic.	
B.	Jednym ze skutków wydarzenia przedstawionego na obrazie była wojna polsko-rosyjska.	
C.	Wydarzenie przedstawione na obrazie miało miejsce w Krakowie.	

Zadanie 15. Zapoznaj się z ilustracją, a następnie uzupełnij zdanie. /0-1/



Karykatura przedstawia XIX-wieczny kongres

- wiedeński.
- wersalski.
- berliński.

Karykatura nawiązuje do realizowanej na kongresie zasady

- równowagi europejskiej.
- legitymizmu.
- restauracji.

Zadanie 16. Zamaluj kratkę przy poprawnie zapisanym ciągu wydarzeń. /0-1/

- Noc Listopadowa, Wielka Emigracja, powstanie krakowskie, I powstanie śląskie
- Wielka Emigracja, Noc Listopadowa, powstanie krakowskie, I powstanie śląskie
- Noc Listopadowa, powstanie krakowskie, Wielka Emigracja, I powstanie śląskie
- I powstanie śląskie, Noc Listopadowa, Wielka Emigracja, powstanie krakowskie

Zadanie 17. Zamaluj kratkę przy wydarzeniu z historii Polski w XX wieku, które miało miejsce najpóźniej. /0-1/

- Majowy zamach stanu.
- Uchwalenie konstytucji marcowej.
- Śmierć prezydenta Narutowicza.
- Uchwalenie konstytucji kwietniowej.

Zadanie 18. Zamaluj kratkę przy nazwach 3 polskich formacji walczących na frontach II wojny światowej /0-1/

- 2. Korpus Polski
- 1. Samodzielna Brygada Spadochronowa
- I Kompania Kadrowa
- Legiony Polskie
- Błękitna Armia
- 1. Dywizja Piechoty im.T. Kościuszki

Zadanie 19. Do podanych niżej krótkich charakterystyk dopisz odpowiednie nazwiska postaci. Odpowiedzi wybierz spośród podanych. /0-2/

Józef Stalin, Fidel Castro, Imre Nagy, Aleksander Dubček, Nikita Chruszczow.

Lp.	Charakterystyka postaci	Postać
A	I sekretarz Komitetu Centralnego Komunistycznej Partii Czechosłowacji w latach 1968-1969.	
B	Rewolucjonista, od 1959 roku premier Kuby, a faktycznie dyktator rządzący Kubą do 2008 r.	
C	Sekretarz generalny Komitetu Centralnego Komunistycznej Partii Związku Radzieckiego w latach 1953-1964.	

Zadanie 20. Rozstrzygnij, czy oba źródła dotyczą tego samego wydarzenia. Uzasadnij odpowiedź odwołując się do zamieszczonych źródeł i własnej wiedzy. W uzasadnieniu podaj nazwę wydarzenia. /0-1/

Źródło 1.

Obywatelki i obywatele Polskiej Rzeczypospolitej Ludowej!

Zwracam się dziś do Was jako żołnierz i jako szef rządu polskiego. Zwracam się do Was w sprawach wagi najwyższej. Ojczyzna nasza znalazła się nad przepaścią. Dorobek wielu pokoleń, wzniesiony z popiołów polski dom ulega ruinie. Struktury państwa przestają działać. (...) Trzeba powiedzieć: dość! Trzeba zapobiec, zagrozić drogę konfrontacji, którą zapowiedzieli otwarcie przywódcy "Solidarności"(...).

Źródło: <https://historia.org.pl>



Źródło 2.

Historia.interia.pl

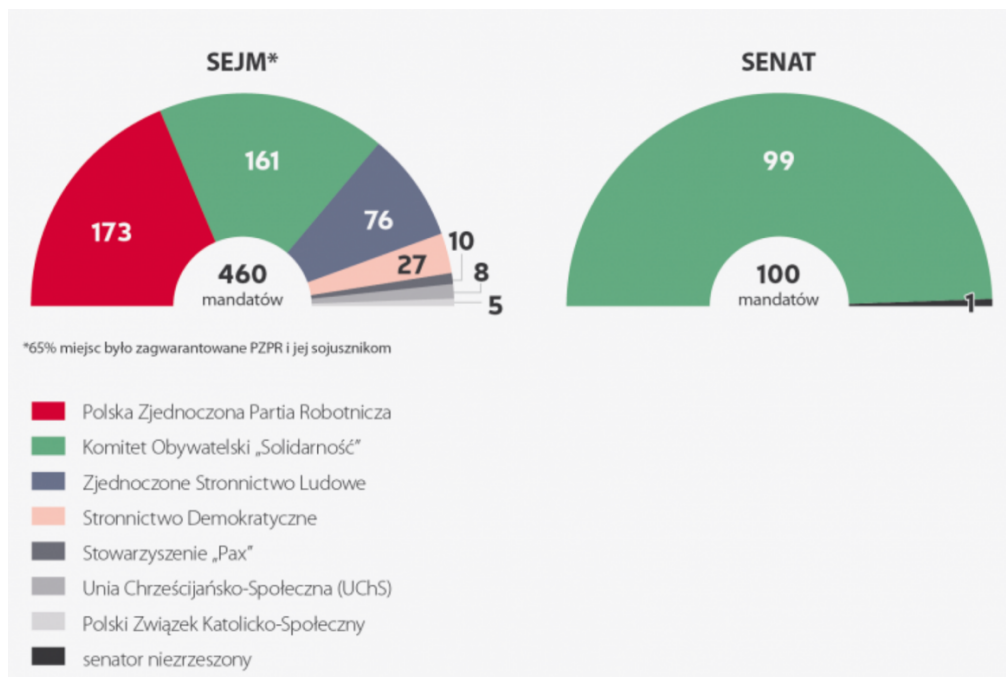
A. Rozstrzygnięcie -

Uzasadnienie -

.....
.....
.....

Zadanie 21. Rozstrzygnij, czy wyniki wyborów przedstawionych w źródle 1. były skutkiem decyzji przyjętych w trakcie wydarzenia przedstawionego w źródle 2. Uzasadnij odpowiedź odwołując się do zamieszczonych źródeł i własnej wiedzy. /0-1/

Źródło 1.



Źródło 2.

Obrady [...] rozpoczęły się 6 lutego 1989 r. w Warszawie w Pałacu Namiestnikowskim (siedzibie Urzędu Rady Ministrów) przy Krakowskim Przedmieściu. W inauguracyjnym posiedzeniu wzięło udział 54 reprezentantów strony rządowo-koalicyjnej i opozycyjno-solidarnościowej. Skład delegacji koalicyjno-rządowej, ustalił gen. Wojciech Jaruzelski, który osobiście nie uczestniczył w obradach. Natomiast reprezentanci strony solidarnościowo-opozycyjnej powołani zostali przez utworzony 18 grudnia 1988 r. Komitet Obywatelski przy Lechu Wałęsie, którego sekretarzem był Henryk Wujec. Dzieje .pl

Rozstrzygnięcie -

Uzasadnienie -

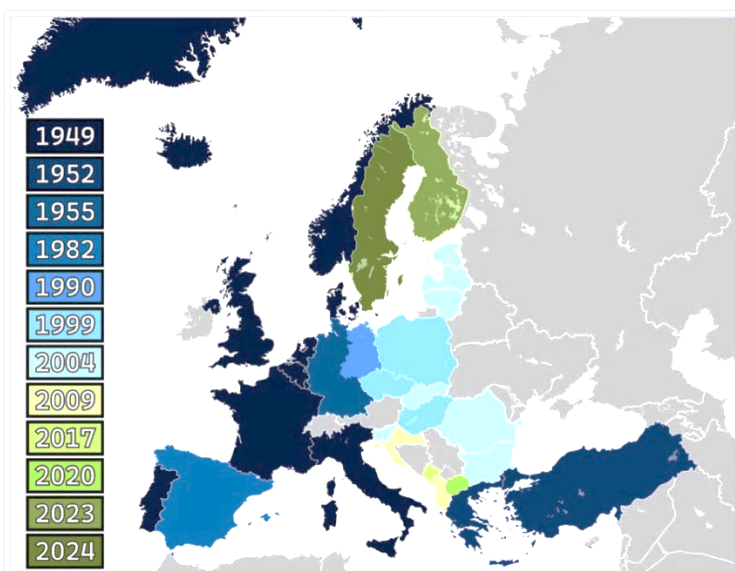
.....

Zadanie 22. Spośród poniższych wydarzeń oznaczonych literami A–D wybierz wydarzenie chronologicznie pierwsze i wydarzenie chronologicznie ostatnie. W każdym wierszu tabeli wpisz właściwą literę. /0-1/

wydarzenie chronologicznie pierwsze	
wydarzenie chronologicznie ostatnie	

- A. Poznański Czerwiec. B. zakaz wystawiania „Dziadów” Adama Mickiewicza i protesty studentów.
 C. Przystąpienie Polski do Unii Europejskiej. D. Obrady Okrągłego Stołu.

Zadanie 23. Zapoznaj się z mapą i dokończ zdanie. /0-1/



Mapa przedstawia państwa członkowskie
(podaj nazwę organizacji)

Zadanie 24. Zamaluj kratkę przy właściwym dokończeniu zdania. /0-1/



www.wyborcza.pl

Napis na pojeździe wojskowym: *Poznaliśmy czeskie drogi i witamy polskie progi*

Zdjęcie nawiązuje do

- interwencji rosyjskiej w Budapeszcie w 1956r.
- Jesieni Narodów w 1989 r.
- zbrojnej interwencji wojsk Układu Warszawskiego w Czechosłowacji.